

1 図1は、北緯40度に位置する世界の各都市を表したものである。次の地図を見て、1～8の問いに答えよ。

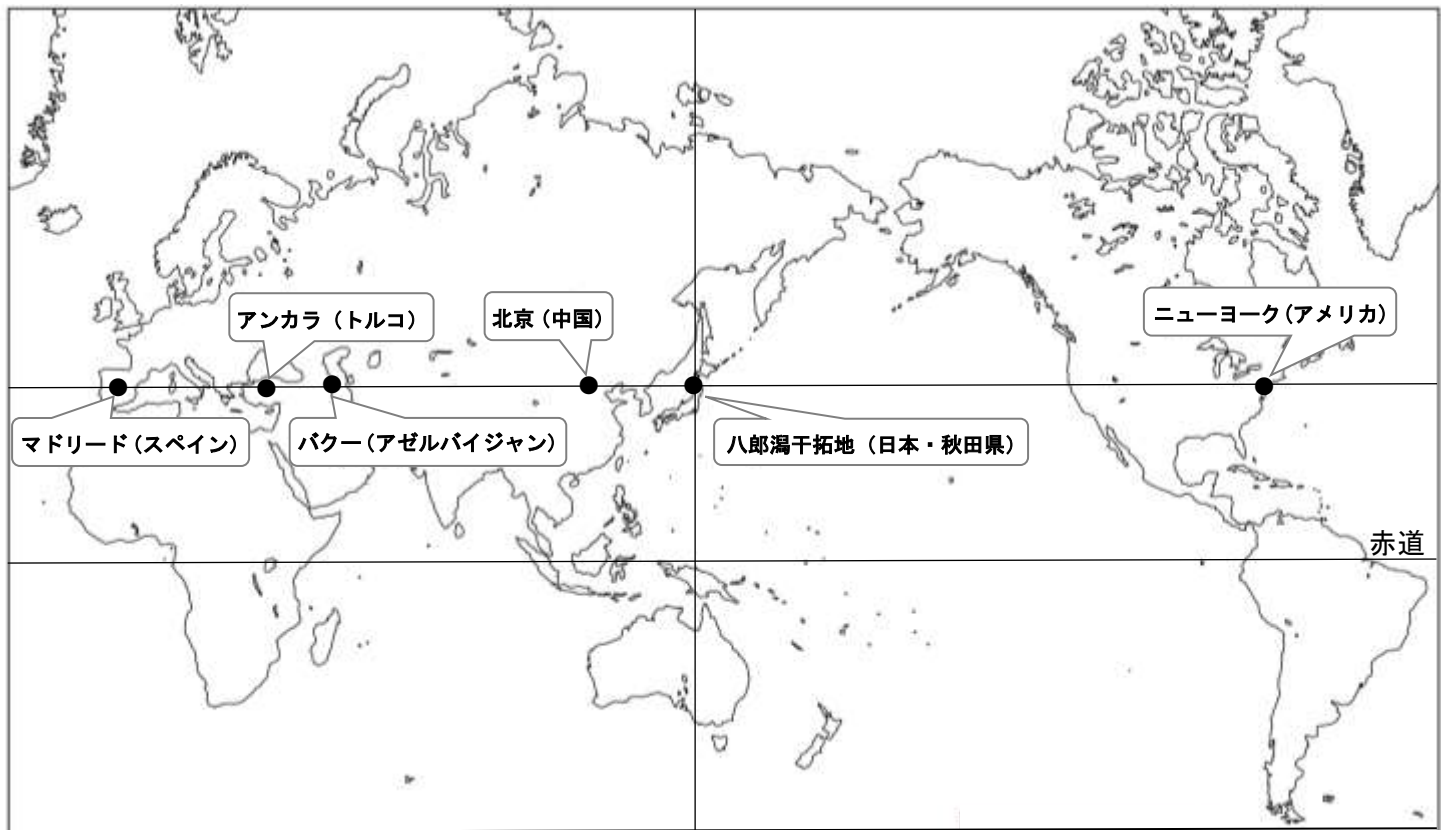


図1

- 秋田県の八郎潟干拓地には、北緯40度が通る。ここでは、日本では珍しく、下一桁が0度となる緯線と経線が通る。秋田県の八郎潟干拓地を通る経線として最も適当なものを、次のア～エのうちから1つ選び、記号で答えよ。
 ア. 東経120度 イ. 東経130度 ウ. 東経140度 エ. 東経150度
- 八郎潟干拓地はかつて琵琶湖に次いで2番目に大きな湖であったが、1960年代の干拓事業によって新しくできた広大な農地として生まれ変わった。「干拓」について説明した図2のA・BとX～Zの説明文の正しい組み合わせを、次のア～カのうちから1つ選び、記号で答えよ。

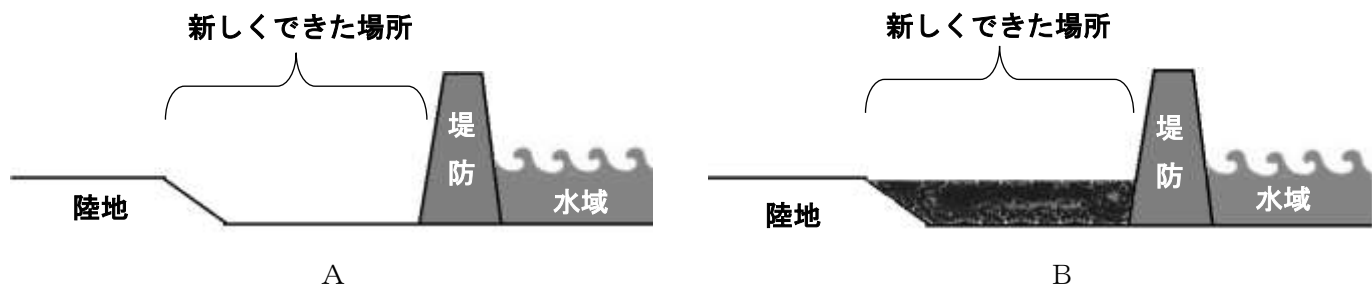


図2

- X. 土地を掘り下げたあとで、堤防を築いて水が入り込まないようにした場所。
- Y. 堤防で締め切った浅い水域に土砂などを加えて土地を造成した場所。
- Z. 堤防で締め切った浅い水域からポンプ等で水を抜き出した場所。

	ア	イ	ウ	エ	オ	カ
図2	A	A	A	B	B	B
文章	X	Y	Z	X	Y	Z

3. 中国の首都北京にも北緯 40 度を通る。中国は 21 世紀に入って著しい経済発展を遂げているが、そのプロセスを述べた文として適当でないものを、次のア～エのうちから 1 つ選び、記号で答えよ。

ア. コーヒーなどのプランテーションに依存した経済体制から抜け出して、工業化を進めた。

イ. 積極的に外国企業を受け入れる経済特区を設けて、中国と外国企業が共同で経営する工場をつくった。

ウ. 都市と農村での経済格差をなくすため、「西部大開発」による内陸部の重点的な開発を進めた。

エ. 急速な工業化と都市によって、PM2.5 や光化学スモッグによる大気汚染など深刻な環境問題が起きている。

4. アゼルバイジャンの首都バクーにも北緯 40 度を通る。バクーが面しているカスピ海は、乾燥地域にあるため、蒸発が激しく塩分濃度の高い塩湖である。そして、世界最大の湖とされていたが、カスピ海に面している国の間では、カスピ海のことを海だと主張する国と、湖だと主張する国にわかれて長年にわたり論争を続けてきた。資料 1 と資料 2 から読み取れることとして適当でないものを、次のア～エのうちから 1 つ選び、記号で答えよ。

資料 1

※ この問題は、著作権の関係により掲載できません。

資料 2

※ この問題は、著作権の関係により掲載できません。

ア. 排他的経済水域では、沿岸国に一定の水域の水産・地下資源を優先的に管理する権限が認められている。

イ. カスピ海を、海とするか、湖とするかで沿岸国が管理できる水域の範囲が変わってくる。

ウ. アゼルバイジャンはカスピ海に半島が突き出ているため、沿岸 5 か国の中で排他的経済水域が最も狭い。

エ. イランは、カスピ海の地下資源を多く手に入れたいために、湖であると主張していた。

5. トルコの首都アンカラにも北緯 40 度を通る。首都アンカラは、トルコ最大都市のイスタンブールに次いで第 2 の都市であり、政治の中心である。このように、世界には必ずしも最大都市が首都ではない国がいくつかある。首都－最大都市の組み合わせとして適当でないものを、次のア～エのうちから 1 つ選び、記号で答えよ。

ア. 中国：北京－上海

イ. オーストラリア：キャンベラ－シドニー

ウ. アメリカ：ワシントン D.C.－ニューヨーク

エ. ブラジル：サンパウロ－リオデジャネイロ

6. スペインの首都マドリードにも北緯 40 度が通る。夏は晴天が続き乾燥する地中海性気候のスペインでは、夏にオレンジやオリーブなどの乾燥に強い作物を育て、冬の雨を生かした小麦などを栽培する地中海式農業が盛んである。表中のア～エはイギリス、ドイツ、オランダ、スペインの品目別食料自給率を示したものである。このうち、スペインにあてはまるものを1つ選び、記号で答えよ。

表 おもなヨーロッパ諸国の品目別食料自給率 (2013 年)

※ この問題は、著作権の関係により掲載できません。

7. アメリカの最大都市ニューヨークにも北緯 40 度が通る。図 3 と資料 3 を見て、東京からニューヨークに向かう飛行機が最短距離で飛行する時、東京からどの方位に向けて飛行するかを 8 方位で答えよ。また、東京ーニューヨーク間の最短距離は約何 km になるかを答えよ。

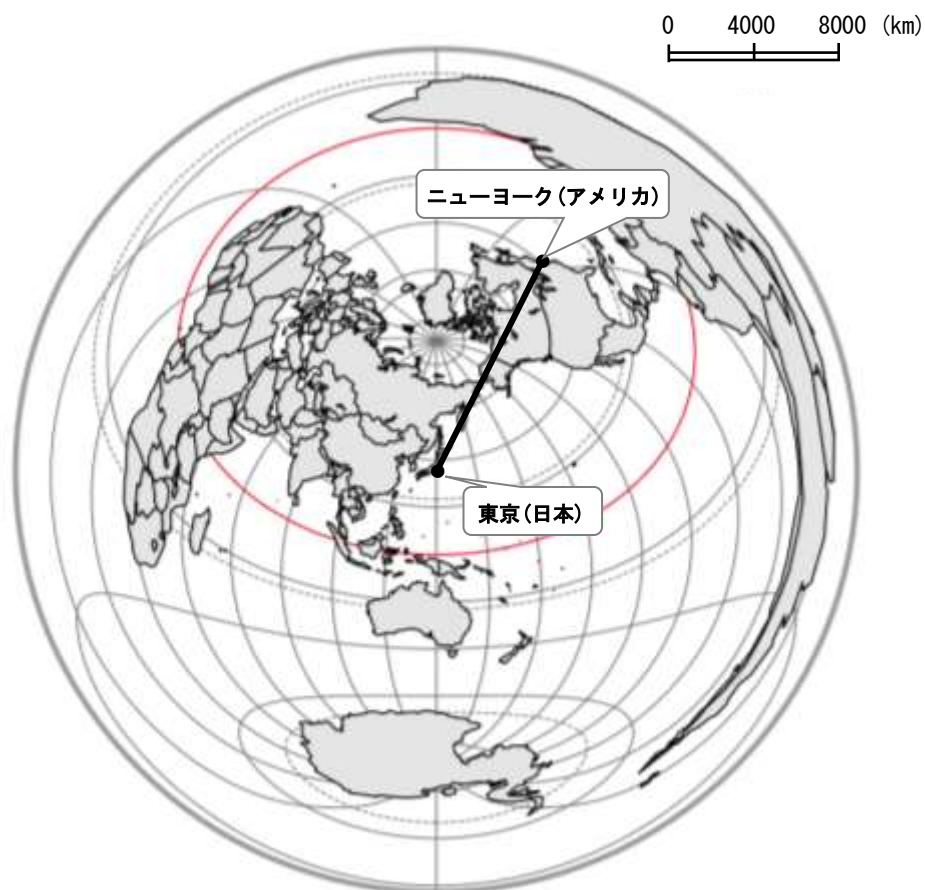


図 3 東京を中心とした正距方位図法の世界地図

資料 3

正距方位図法とは、中心からの距離と方位を正しく描いた地図の表現方法のことである。したがって、地図の中心点から外側に引かれた直線は、中心点の都市からの最短ルートを示すことになる。燃料の節約のため、航空機の飛行ルートはおおむね最短ルートに沿って設定されている。地球の円周はおおむね 40,000km となっているので、地図の外周が中心点から約 20,000km となる。

8. アメリカとカナダの国境の大部分は北緯 49 度の緯線に沿って引かれている。アメリカとカナダの国境付近の最西端にはカナダ第 3 の都市であるバンクーバーが位置している。北アメリカ大陸東岸のニューヨークと西岸のバンクーバーの気候の様子を雨温図で調べてみた。図 4 に示す 2 都市の雨温図の比較から読み取れることとして適当でないものを、次のア～エのうちから 1 つ選び、記号で答えよ。

※ この問題は、著作権の関係により掲載できません。

図 4

- ア. ニューヨークは、海に面しており年間を通して降水量が安定している。
- イ. ニューヨークは、季節風の影響を受けて、夏は高温、冬は低温になる。
- ウ. バンクーバーは、ニューヨークに比べると年間を通して降水量の変化の差は小さい。
- エ. バンクーバーは、沿岸を流れる暖流と偏西風の影響を受けて極端に寒くはならない。

2 資料 1 は、北九州市の取り組みを示したものである。資料 1 を見て、1～4 の問いに答えよ。

資料 1

※ この問題は、著作権の関係により掲載できません。

1. 下線Aについて、北九州市のような古くから人口と産業が集中する人口 50 万人以上の大都市は、政府の指定によって都道府県が行う行政権限の多くが任されており、市が独自に実施できる行政サービスの幅を広げることができる。このような都市のことを何というか漢字で答えよ。
2. 下線Bについて、北九州市の工業化の中心となった施設は、2015 年に世界遺産として登録された。この施設として最も適当なものを、次のア～エのうちから 1 つ選び、記号で答えよ。
ア. 八幡製鉄所 イ. 富岡製糸場 ウ. 石見銀山 エ. 国立西洋美術館
3. 下線Cについて、「低炭素社会」の実現に向けた取り組みとして適当でないものを、次のア～エのうちから 1 つ選び、記号で答えよ。
ア. 女性や高齢者の活躍を促すため、子育て支援や高齢者福祉を充実させる。
イ. 自家用車の利用を控えるため、モノレールやバスなどの公共交通機関を充実させる。
ウ. 自然エネルギーを利用するため、ソーラーパネルや風力発電施設などを設置する。
エ. ごみを削減して 3 R 運動を進めるため、幼稚園などで環境教育を実施する。
4. 下線Dについて、国連が定めた「SDGs (Sustainable Development Goals : 持続可能な開発目標)」は、2030 年までに解決しなければならない問題を 17 の分野に整理・提示したものである (図 1)。「SDGs」について説明した文章として適当でないものを、次のア～エのうちから 1 つ選び、記号で答えよ。

※ この問題は、著作権の関係により掲載できません。

図 1 SDGs の 17 の目標

- ア. 開発途上国だけで生じている問題ではなく、先進国にも生じている問題も多くある。
- イ. 国を越えて世界に広まっている問題もあるため、世界各国が協力する必要がある。
- ウ. 優先順位が高い順に 17 個掲げられているので、目標の 1 から順番に解決していかなければならない。
- エ. 個別の問題の解決を目指すだけでなく、複数の問題の解決を目指す総合的な取り組みが必要である。

3 次の1～8の問いに答えよ。

1. 資料1について、次の(1)～(2)に答えよ。

資料1

※ この問題は、著作権の関係により掲載できません。

(1) 資料1に示されている、明治のはじめにおこった生活の変化を何というか。漢字4字で答えよ。

(2) 資料1の説明として誤っているものを、次のア～エのうちから1つ選び、記号で答えよ。

ア. 明治時代より設置されたガス灯がみえる。

イ. 1882年に日本橋・新橋間に開通した電車がみえる。

ウ. 建物には西洋から取り入れられたレンガ造りがみられる。

エ. 描かれている人物は、着物や、西洋を参考にした洋服を身につけている。

2. 史料1を参考に、次の(1)～(2)に答えよ。

史料1

※ この問題は、著作権の関係により掲載できません。

(1) 史料1に関連して、聖徳太子が送った使節の、使者の名前を漢字4字で答えよ。

(2) 史料1の内容として誤っているものを、次のア～エのうちから1つ選び、記号で答えよ。

ア. 「倭」とは日本のことを指しており、その王は「大王」とよばれる地位にある「アメタリシヒコ」である。

イ. 隋の王が、倭の朝廷に使者を遣わしてきたのは、開皇20(600)年のときである。

ウ. 倭の王は、大業3(607)年に使者を遣わし、「皇帝の下で仏教が盛んであると聞いている」と伝えている。

エ. 倭の王が使者を遣わした理由は、僧侶を数十人使わすことで、仏法を学ばせることである。

3. 史料2を参考に、次の(1)～(2)に答えよ。

史料2

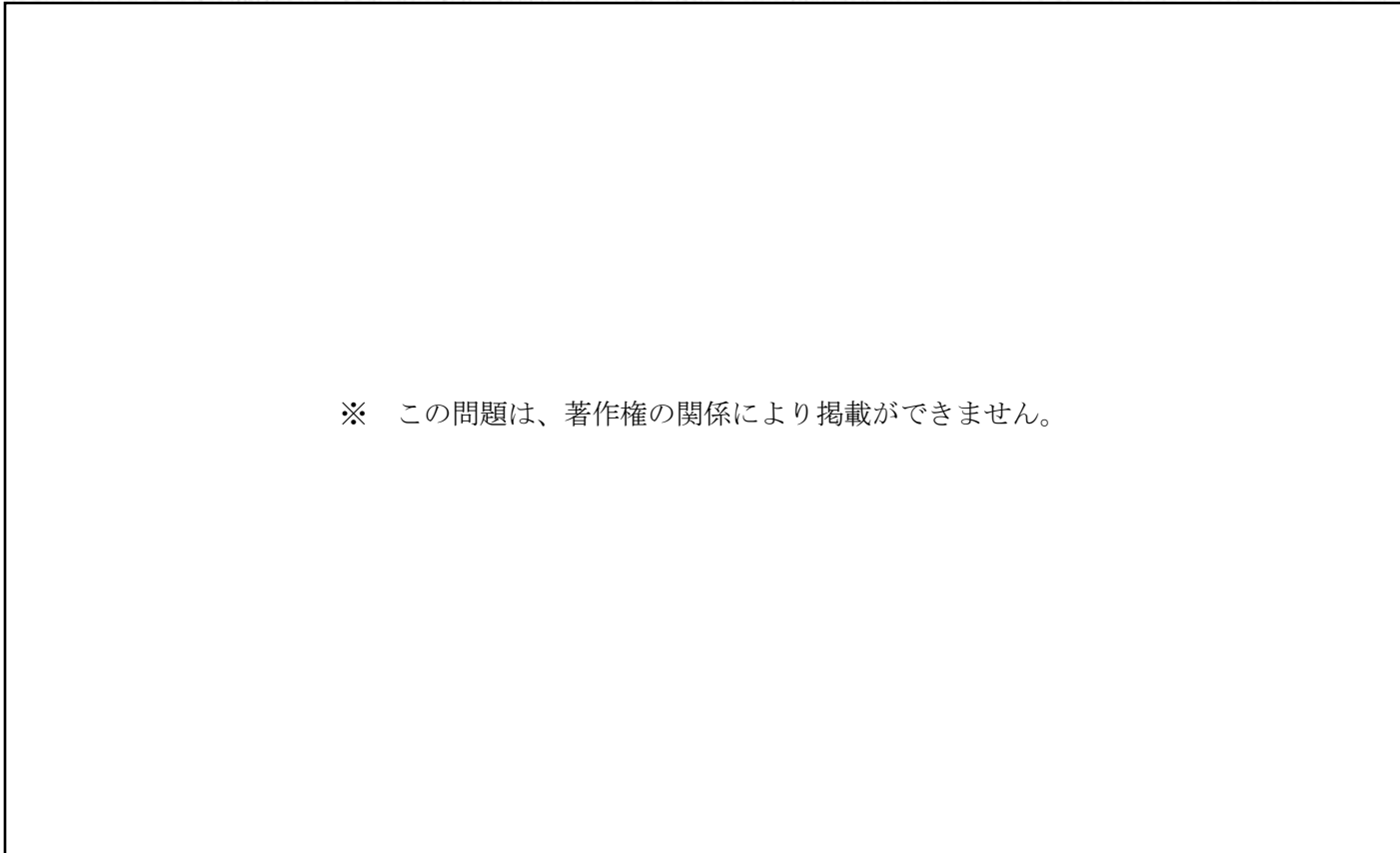
※ この問題は、著作権の関係により掲載できません。

(1) 大名は1年おきに領地と江戸を往復する、という史料2の制度を何というか。漢字4字で答えよ。

(2) 史料2を制度として定めた、第3代将軍の名前を漢字4字で答えよ。

4. 資料2を参考に、次の(1)～(2)に答えよ。

資料2



※ この問題は、著作権の関係により掲載ができません。

(1) 資料2のように、13世紀後半、日本には2度にわたる元軍襲来があったが、この時の執権は誰か。次のア～エのうちから正しいものを1つ選び、記号で答えよ。

ア. 源頼朝 イ. 北条時宗 ウ. 北条泰時 エ. 北条時政

(2) 資料2を参考に、元軍襲来の内容として誤っているものを、次のア～エのうちから1つ選び、記号で答えよ。

ア. この戦いでは、元軍によって火縄銃が使用されている。

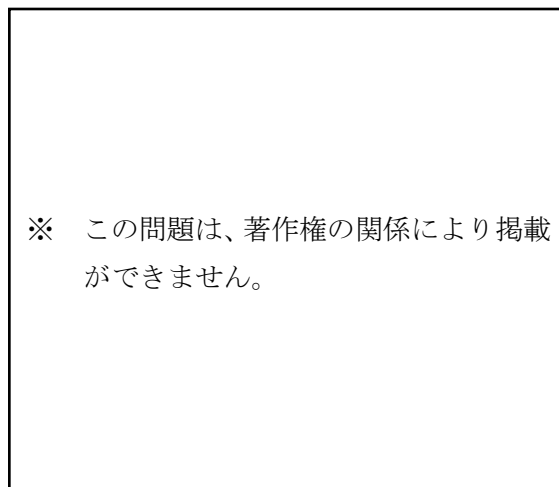
イ. 元軍は、弓矢や槍などを使用し、日本に対して集団で攻めている。

ウ. 馬に乗って戦っているのは、将軍に仕える日本の御家人である。

エ. 元軍は、朝鮮半島の高麗(こうらい)の軍を従えて、日本に攻めてきた。

5. 資料3は、たび重なる航海の失敗にもかかわらず来日を果たし、仏教を広めた人物の像である。彼が来日した時代のできごとを説明した文として正しいものを、次のア～エのうちから1つ選び、記号で答えよ。

資料3



ア. 藤原道長とその子頼通による摂関政治が行われた。

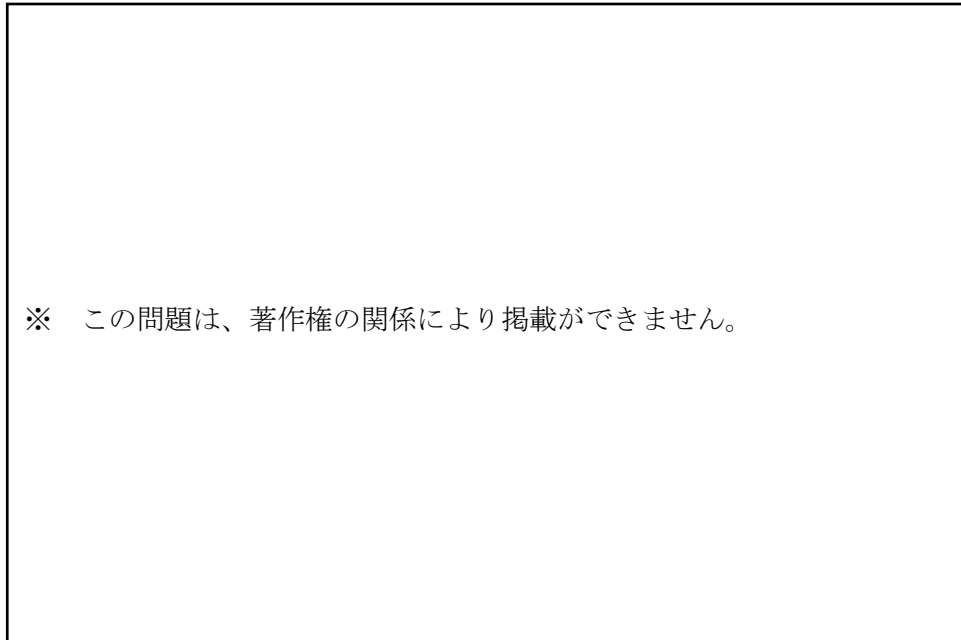
イ. 奈良盆地を中心に前方後円墳などの大きな古墳がつくられた。

ウ. 仏教の力で国家を守るため、聖武天皇は東大寺を建て、大仏をつくらせた。


エ. 推古天皇が即位すると聖徳太子が摂政となり、蘇我氏と協力して政治を行った。

6. 資料4は現存する世界最古の木造建築で、世界遺産にも登録されている。飛鳥文化を代表するこの寺院の名前を、漢字3字で答えよ。

資料4



7. 次の文章の(X)に入る人名をカタカナで答えよ。



8. 次のア～エの内容を読み、古いものから年代順に正しく並べ替え、記号で答えよ。
- ア. この時代は、明からあたえられた勘合という証明書をもたせ、朝貢の形式をとる日明貿易を始めた。
 - イ. この時代は、唐風の文化をふまえ、日本の風土や生活、感情に合うよう発展した国風文化が栄えた。
 - ウ. この時代は、平戸や長崎などで貿易をしており、ポルトガルやスペインの南蛮人と南蛮貿易をした。
 - エ. この時代は、王や豪族をほうむるための大きな墓である古墳が、日本各地につくられるようになった。

4 次の文章を読み、1～8の問いに答えよ。

現在、多くの国で民主主義に基づく政治（民主政治）が行われている。民主主義とは、多くの人々の参加によって物事を決めようとする考え方である。日本では、1890年施行のA大日本帝国憲法において主権者は天皇であると定められていた時代がある。その後、1947年に施行されたB日本国憲法においては、主権者である国民が、政治のあり方を定めることが定められた（第1条）。私たちはC憲法改正の国民投票（第96条）や最高裁判所裁判官の国民審査（第79条）など、国の政治に直接参加することができるようになったのである。

このような民主主義の考え方は、国の政治だけでなく、地域の政治にも適用されている。地域の問題を住民自らの意志と責任で決めていく政治を地方自治といい、憲法で保障されている（第92条）。具体的には、ごみ収集、上下水道、交通安全などの地域の特性に応じた問題の解決をしていくために、さまざまなD住民が自主的に参加することになる。そこでは民主主義で目指されているように、E地域社会の政治に直接参加することによって、自らの政治社会を管理し、統制する能力を養うことができる。

地域の政治は、都道府県と市（区）町村という地方公共団体（地方自治体）によって行われている。都道府県知事と市（区）町村長といった地方公共団体の首長は住民の意向を考え合わせながら、F予算や条例の案をつくり議会に提出をする一方で、地方議会は予算を決め、条例の改正や廃止などを行っている。首長は議会の解散権や議会の決定に対する拒否権を持っているが、議会も首長の不信任決議権を持っているため、一方が強くなりすぎないような仕組みがとられている。

現在、地域社会を取り巻く課題にも変化が起こり、さまざまな対応を求められている中で、2000年代にはG近隣の市町村同士が合併して新しい市などになる、市町村合併も進められてきた。また、これからの地域づくりにはH行政だけではなく、私たち住民の社会参画をはじめとした、多方面での相互協力がますます重要になってきている。私たち一人ひとりが協働して課題解決に取り組むため、どのように行動するのか考えていく必要がある。

1. 下線Aに関連して、大日本帝国憲法のモデルとなった憲法を中心となって作成した人物として最も適切なものを、次のア～エのうちから1つ選び、記号で答えよ。
ア. ビスマルク イ. ムッソリーニ ウ. ヒトラー エ. ローゼンベルグ
2. 下線Bに関連して、日本国憲法について「この憲法は、国の（X）であって、その条規に反する法律、命令、詔勅及び国務に関するその他の行為の全部又は一部は、その効力を有しない」（98条1項）とされているが、（X）にあてはまるものとして最も適切な語句を、漢字で答えよ。
3. 下線Cに関連して、図1は憲法改正の手続きの順序を示したものである。(①)～(④)にあてはまるものとして最も適切なものを、それぞれ次のア～クのうちから1つずつ選び、記号で答えよ。

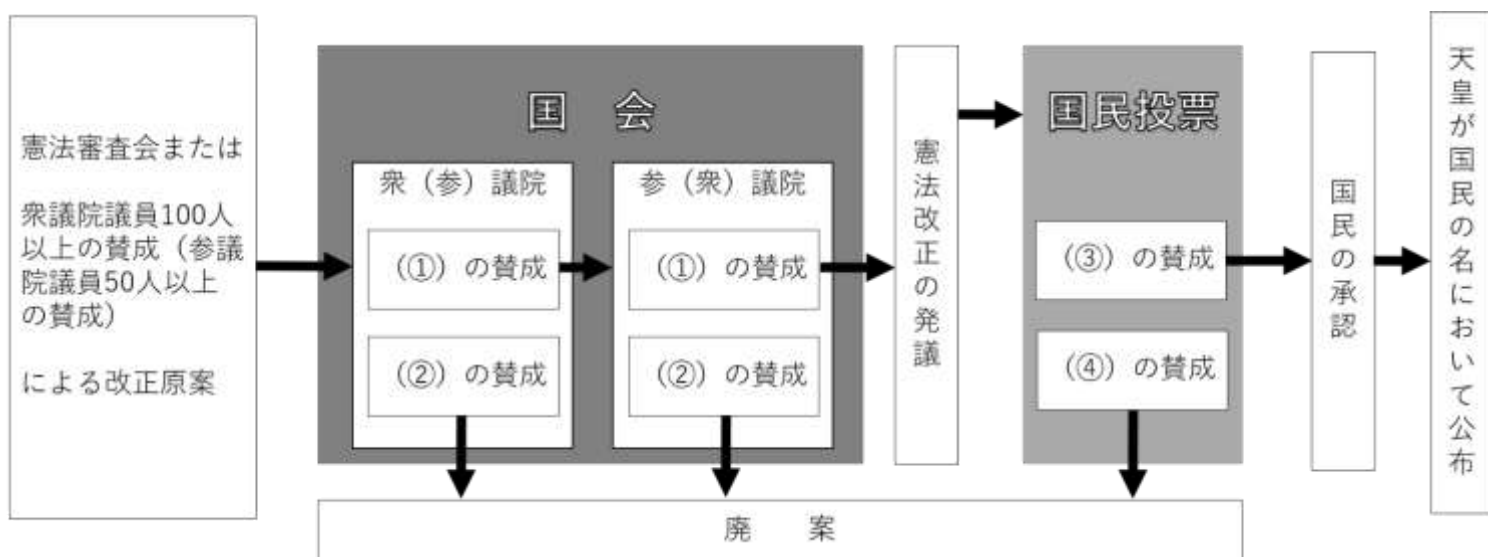


図1 憲法改正の手続き

- | | | |
|----------------|----------------|--------------|
| ア. 総議員の3分の2以上 | イ. 総議員の3分の2未満 | ウ. 総議員の過半数 |
| エ. 総議員の半分以上 | オ. 有効投票の過半数 | カ. 有効投票の半分以上 |
| キ. 有効投票の3分の2以上 | ク. 有効投票の3分の2未満 | |

4. 下線Dに関連して、有権者 300,000 人のつくさか県において、「つくさか県自転車の安全利用に関する条例」の制定を請求する場合の最低必要署名数と請求先として最も適当なものを、下の表を参考にして、それぞれ次のア～クのうちから1つずつ選び、記号で答えよ。

表 直接請求権

請求の種類	必要署名数	請求先	取り扱い
条例の制定・改廃	有権者の 1/50 以上	首長	議会で採決
事務の監査		監査委員会	監査を行う
議会の解散	有権者の 1/3 以上*	選挙管理委員会	住民投票で決定
議員・首長の解職			住民投票で決定
副知事・副市（区）町村長などの解職		首長	議会で採決

※有権者数が 40 万人を超える場合は、40 万人の 1/3 に、40 万人を超える人数の 1/6 を足した数以上。

有権者数が 80 万人を超える場合は、40 万人の 1/3 に、40 万人を超える人数の 1/6 と 80 万人を超える人数の 1/8 を足した数以上。

- ア. つくさか県知事
オ. 100,000
- イ. 監査委員会
カ. 16,000
- ウ. 選挙管理委員会
キ. 8,000
- エ. つくさか県議会
ク. 6,000
5. 下線Eに関連して、地方自治が人々の暮らしに身近な民主政治の場であるという考えが表現されたものとして最も適当なものを、次のア～エのうちから1つ選び、記号で答えよ。
- ア. 民主主義の先生
イ. 民主主義の学校
ウ. 民主主義の味方
エ. 民主主義の基礎
6. 下線Fに関連して、予算案に盛り込まれる地方財源の説明として最も適当なものを、次のア～エのうちから1つ選び、記号で答えよ。
- ア. 地方交付税交付金は、国が財源の豊かな地方公共団体とそうでない団体の調整するために配分されている。
イ. 国庫支出金は、地方公共団体が財政上の必要から発行する借金のことである。
ウ. 地方債は、地方公共団体が独自に集め、国に制約されず比較的自由に使用できる自主財源の一つである。
エ. 地方税は、国が地方公共団体の義務教育や道路整備など特定の経費の一部を負担する費用のことである。
7. 下線Gに関連して、図2は市町村合併の背景とポイントをまとめたものである。この図2を参考にし、市町村合併が進められた背景として適当でないものを、次のア～エのうちから1つ選び、記号で答えよ。

※ この問題は、著作権の関係により掲載ができません。

図2 市町村合併の背景とポイント

- ア. 市町村の仕事の効率向上のため。
ウ. 少子高齢化への対応のため。
- イ. 市町村の財政の安定化のため。
エ. 中央集権化を推進するため。
8. 下線Hに関連して、政府の一部ではなく独立した運営を行い、さまざまな分野の社会的活動を利益目的ではなく公共の利益のために自発的に行う団体を NPO という。この NPO を示す語句として最も適当なものを、次のア～エのうちから1つ選び、記号で答えよ。
- ア. 国際協力機構
イ. 非政府組織
ウ. 非営利組織
エ. 日本経済団体連合会

5 次の文章を読み、1～12の問いに答えよ。

日本の航空会社のひとつである全日本空輸（ANA）は、2011年よりアメリカのボーイング社が製造したB787という機材（飛行機）を導入した。現在では国際線と国内線の主力機種となっている。ちなみに、B787は準日本製とされている。なぜなら、A機体の約35%を日本のメーカーが製造しているからである。

ところで、日本の航空行政を担っている省庁は、国土交通省である。2019年9月、国土交通省は2020年のC東京オリンピック・パラリンピックに向けた羽田空港の国際線発着枠の増枠分について、下の表のように発表した。今後も、首都圏の空の玄関として、羽田空港は進化し続けるだろう。

表 羽田空港の昼間時間帯の発着枠（増加分）の配分について（国際線）

※ この問題は、著作権の関係により掲載できません。

さて、本校は今年度から海外校外学習の行き先を変更する。すなわち、本校の1年生は、Dインドネシア、タイそしてシンガポール・マレーシアの3コースから行き先を選択できるようになった。

インドネシアでは、「環境と開発」をテーマとした校外学習を企画中だ。インドネシアは、急速なE経済成長を遂げつつある。2019年4月には、首都ジャカルタにF日本政府の支援を受けて完成した地下鉄が開業した。その一方で、廃棄物処理の問題やG生物多様性の保護が重要な課題となっている。本校外学習では、姉妹校の生徒と一緒に、環境と開発の両立を考えるための合宿を企画中である。

一方タイでは、H現地に進出している日系企業の工場を訪問する予定である。そして、夕食会場に日系企業で活躍中の方をお招きし、生徒との会食を企画中である。また、タイの文部省や貧困家庭の支援に従事するNGOを訪問し、I教育支援の現状を視察することも予定している。

タイでは首都バンコク周辺で活動が収まるのに対して、Jシンガポール・マレーシアでは、1回で2ヶ国訪問することができるダイナミックな旅程を計画中だ。シンガポールという都市部での活動とマレーシアの農村部でのホームステイを通じて、都市と農村の違いを比較することができるプログラムとなっている。

今年度から始まる新しい海外校外学習を通じて、生徒諸君に探究活動の幅を広げる機会を提供したい。そして、来年の3月に、諸君とともにB787に搭乗し、海外校外学習に出かけることを楽しみにしている。

1. 下線Aに関連して、多くの日本企業は、製品をアメリカに輸出している。アメリカに製品を輸出している日本企業と為替との関係について説明した文として最も適当なものを、次のア～エのうちから1つ選び、記号で答えよ。

ア. 円高になると、輸出企業の株価は上昇する傾向にある。なぜなら、円高の結果、利潤が増えるからである。

イ. 円安になると、輸出企業の株価は上昇する傾向にある。なぜなら、円安の結果、利潤が増えるからである。

ウ. もしも円の価値が1ドル=100円から1ドル=150円になった場合、輸出企業の利潤は大幅に減少することが見込まれる。

エ. もしも円の価値が1ドル=100円から1ドル=150円になったとして、日本企業の技術力は高いため、為替変動の影響はほとんどない。

2. 下線Bに関連して、日本の行政について説明した文として適当でないものを、次のア～エのうちから1つ選び、記号で答えよ。
- ア. 日本国憲法によると、行政権は内閣に属すると書かれている。
 - イ. 国の行政の最高責任者は、選挙で選ばれた国会議員の中から、国民が直接選ぶことができる。
 - ウ. 国の行政の最高責任者は、文民である必要がある。
 - エ. 日本国憲法は、行政活動が憲法に違反していないかどうか判断する権限を、裁判所に与えている。
3. 下線Cに関する記述として適当でないものを、次のア～エのうちから1つ選び、記号で答えよ。
- ア. 1964年の東京オリンピック当時の日本は、高度経済成長の時代であった。
 - イ. 1964年の東京オリンピックの前後の時期に、日本は深刻な公害問題を経験した。
 - ウ. 日本政府は、2020年の東京オリンピックの事務を担当する目的で、「東京オリンピック庁」という新しい省庁を設置した。
 - エ. 日本政府は、2020年の東京オリンピックを、東日本大震災からの「復興五輪」と位置付けている。
4. 表の国名のうち、日本が1940年9月に軍事同盟を締結した国を1つ選び、国名を答えよ。
5. 表の(X)にあてはまる国は、日本の最大の貿易相手国である。(X)に当てはまる国名を答えよ。
6. 下線Dの国がすべて加盟している地域協力機構の名称を、アルファベットで答えよ。
7. 下線Eに関連して、一国の経済の状況を把握するための指標を、アルファベットで1つ答えよ。
8. 下線Fに関連して、日本政府は多くの開発途上地域の発展を支援している。さて、開発途上地域の開発を目的とする政府による国際協力活動のことを何というか、アルファベットで答えよ。
9. 下線Gに関連して、特に希少種の取引規制や特定の地域の生物種の保護を目的とするために結ばれたものとして最も適当なものを、次のア～エのうちから1つ選び、記号で答えよ。
- ア. 京都議定書
 - イ. 気候変動枠組み条約
 - ウ. ワシントン条約
 - エ. パリ協定
10. 下線Hの企業のように、多くの日本企業は東南アジアに進出している。日本企業が、東南アジアに進出する理由として適当でないものを、次のア～エのうちから1つ選び、記号で答えよ。
- ア. 東南アジア諸国は、工業団地を整備し、外国の企業を積極的に誘致しているため。
 - イ. 東南アジア諸国は、中東地域やアフリカ諸国と比べると、政治的に安定しているため。
 - ウ. 東南アジア諸国は、仏教を信仰する人が大多数なので、日本人と宗教的な親和性が高いため。
 - エ. 東南アジア諸国は、親日的な国が多く、日本語を話せる人も他地域と比べると多いため。
11. 下線Iに関連して、国際連合の専門機関のうち、主として教育・科学・文化を扱う専門機関の名称を、アルファベットで答えよ。
12. 下線Jのシンガポールとマレーシアの関係を説明した文として最も適当なものを、次のア～エのうちから1つ選び、記号で答えよ。
- ア. シンガポールよりもマレーシアの方が経済発展しているため、シンガポールからマレーシアへ出稼ぎに行く人が急増している。
 - イ. シンガポールは仏教徒が多いのに対して、マレーシアはヒンドゥー教徒が多数を占めるため、両国は宗教上、対立している。
 - ウ. シンガポールは、国土が極めて小さいため、水や食料品などの生活物資を、マレーシアからの輸入に頼っている。
 - エ. シンガポールは、ボルネオ島(カリマンタン島)を領有しているため、大量の木材をマレーシアに輸出している。